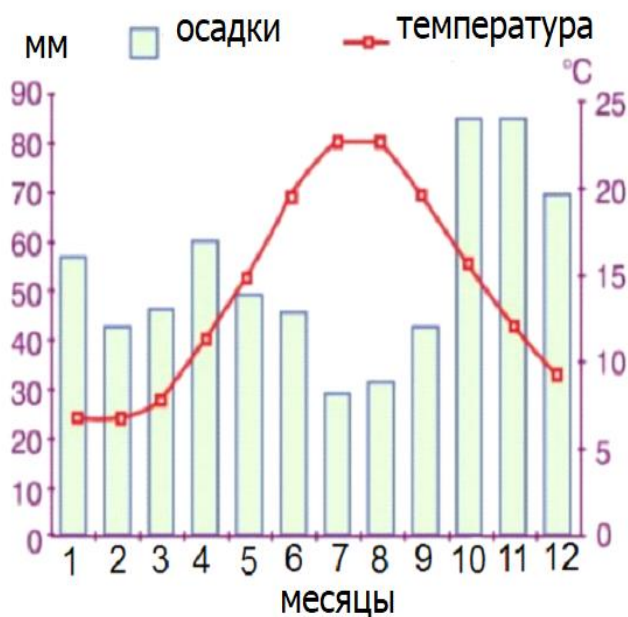


1. Определите полуостров, на котором встречаются берега фьордового типа.

- A) Скандинавский
- B) Пиренейский
- C) Балканский
- D) Флорида
- E) Юкатан

2. Проанализировав климатограмму, определите верное утверждение.



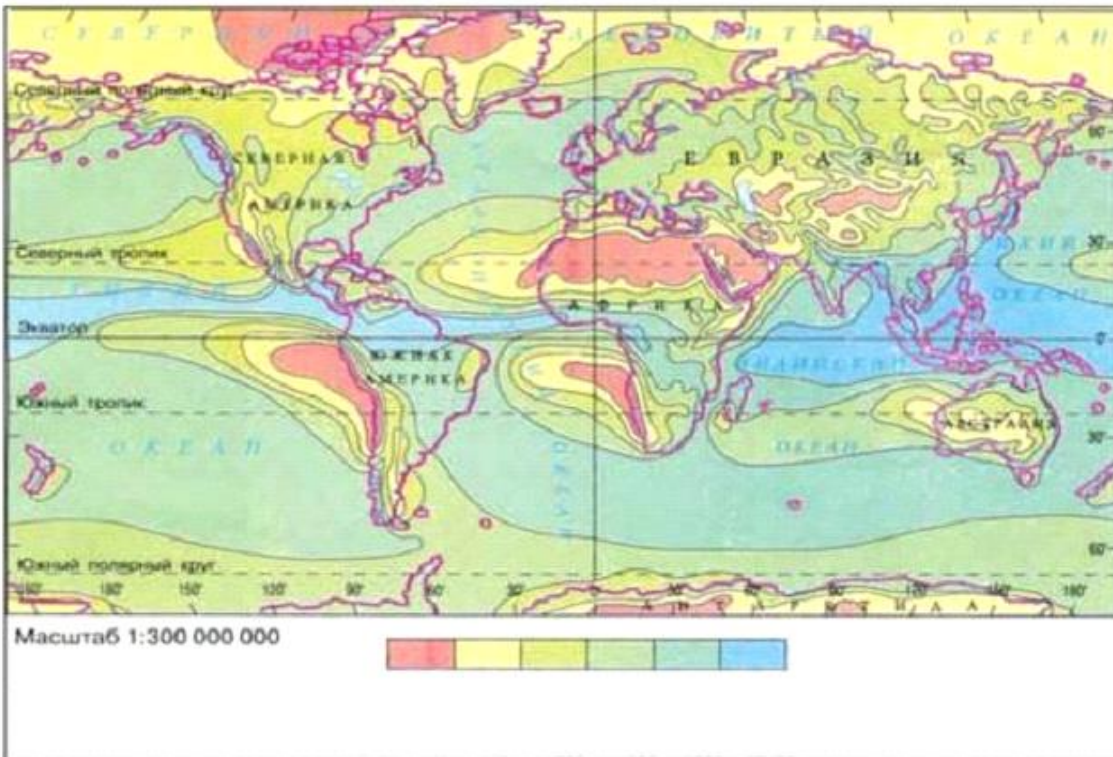
- 1. Годовое количество осадков более 600 мм.
 - 2. Годовое количество осадков больше, чем в Загаталах.
 - 3. Относится к полушарию, где находится океаническое течение Куро-Осио.
 - 4. Климатограмма относится к климатическому поясу, в котором расположен остров Суматра.
 - 5. Годовая амплитуда температуры 25°C.
 - 6. В питании рек территории, к которой относится, не преобладают ледники.
- A) 1,2,4 B) 2,3,5 C) 3,4,5 D) 1,3,6 E) 3,4,6

3. Определите основные причины резкого изменения уровня Аральского моря.



1. Дамбы, построенные на реках Амур и Или
 2. Развитие сельского хозяйства в странах, в которых расположено озеро
 3. Движение литосферных плит
 4. Оросительный канал, проведенный из этого озера на территорию Туркменистана
 5. Начал действовать Каракумский оросительный канал
 6. Широкое применение реки Сырдарья в орошении
- A) 1,3,4 B) 2,5,6 C) 2,3,5 D) 1,4,6 E) 2,4,5

4. Что изображено на данной карте?



- A) Годовое количество осадков
- B) Годовое количество испаряемости
- C) Годовой радиационный баланс
- D) Годовой количество альбедо
- E) Годовой количество атмосферного давления

5. Крайние точки, которые расположены в Северном полушарии:

- 1. Пиай
- 2. Йорк
- 3. Париньяс
- 4. Кабу-Бранку

5. Марьято

6. Рас-Хафун

A) 2,5,6

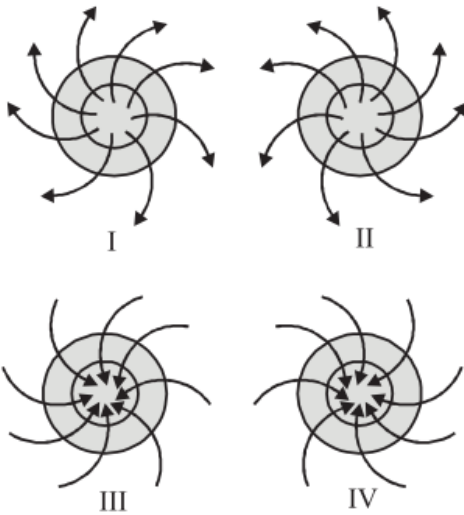
B) 2,3,5

C) 2,4,6

D) 1,3,4

E) 1,5,6

6. Согласно схемам, определите верные утверждения.



1. Положение на IV схеме может наблюдаться во всех полушариях.

2. Положение на III схеме может наблюдаться на юго-востоке США.

3. Положения на I и III схемах могут наблюдаться на одном и том же полушарии.

4. В положениях на II и IV схемах наблюдается нисходящий воздух.

5. На полушарии, в котором наблюдаются I и III положения, все ветры отклоняются направо.

6. На территориях, в которых наблюдаются III и IV положения, возможно прогнозировать понижение уровня рек.

A) 3,5,6

B) 1,4,5

C) 2,3,5

D) 1,2,4

E) 1,2,3

7. Определите признаки, характерные для страны, где находится Альтинская ГЭС.

1. Занимает первое место в мире по производству электроэнергии на душу населения.

2. Возможности сплава леса по реке в этой стране ограничены.

3. Является развивающейся страной.

4. Берега омываются водами одного океана.

5. На территории страны расположена одна из самых высоких точек континента, на котором она расположена

6. Граничит с самой большой по площади страной мира.

A) 1,5,6 B) 2,3,4 C) 1,2,4 D) 4,5,6 E) 3,5,6

8. В 2010 году общая численность населения первого региона составляла 26 млн. человек, а естественный прирост составлял 28 человек на каждые 1000 человек, во втором регионе общая численность населения составляла 32 млн. человек, а естественный прирост составлял 9 человек на каждые 1000 человек. Определите разность абсолютного прироста регионов.

A) 128 тыс. B) 440 тыс. C) 68 тыс. D) 164 тыс. E) 258 тыс.

9. Как называется процесс восстановления продуктивности почв, загрязненных добывающей промышленностью.

A) Инверсия

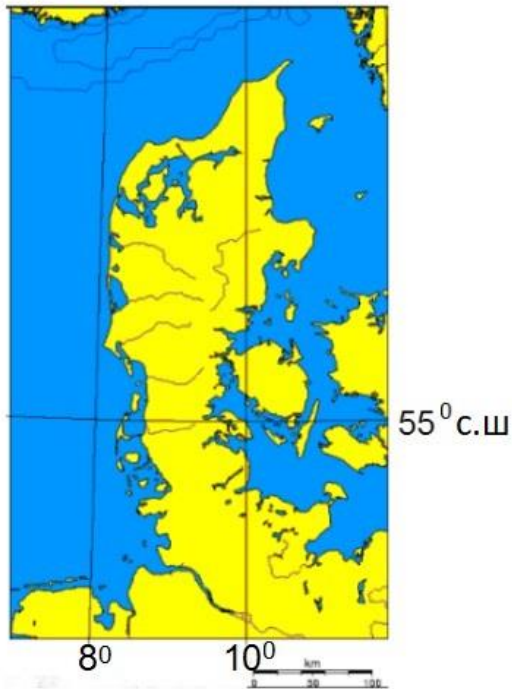
B) Резервация

C) Рекультивация

D) Трансгрессия

E) Эмиграция

10. Определите особенности полуострова, изображенного на схеме.



1. Территория принадлежит двум государствам
 2. На территории наблюдается умеренно-континентальный тип климата
 3. Реки относятся к бассейнам двух океанов
 4. Одна из самых крайних точек континента, к которому полуостров относится, находится на территории данного полуострова
 5. Территория расположена на равнине аккумулятивного происхождения
 6. В южной части имеется судоходный канал
- A) 3,5,6 B) 2,3,5 C) 2,4,6 D) 1,4,5 E) 1,5,6

11. На рисунке изображен город Антофагаста. Город расположен в стране, имеющей самую протяженную сухопутную границу с Аргентиной. Годовое количество осадков в этом городе небольшое. Определите верные утверждения, которые относятся к этому городу.



1. Господствует тип осадков, которые образуются на земной поверхности из влаги, содержащейся в воздухе.
2. Расположен в термическом поясе высокого давления.
3. Территория города является сейсмически стабильной
4. В городе высокая годовая амплитуда температуры
5. Территория города расположена в зоне субдукции
6. Бризы, которые дуют в этом городе, отклоняются налево.

A) 2,4,5

B) 1,5,6

C) 1,2,3

D) 4,5,6

E) 1,3,5

12. Определите верные утверждения.

1. На островах Аляска и Бретань наблюдается одинаковый тип климата.
2. Острова Дурнева в Каспийском море (озере) принадлежат Казахстану.
3. Диаметр Земного шара меньше 12 тысяч километров.
4. Юпитер не является планетой Солнечной системы с наибольшим числом спутников.
5. Средняя соленность Мраморного моря больше средней соленности Черного моря.
6. ОПЭК - объединение стран-импортеров нефти.

A) 1,3,6 B) 2,4,6 C) 3,4,5 D) 1,2,5 E) 1,5,6

13. Какими деревьями богат Султанбудский лес на Гарабагской равнине?

- A) Эльдарская сосна
- B) Дикая фисташка
- C) Железное дерево
- D) Каштан
- E) Восточный платан

14. Сгруппируйте острова соответственно странам:

1. остров Ява ----- Великобритания
2. остров Элсмир----- Канада
3. остров Корсика----- Италия
4. Андаманские острова----- Индия
5. Азорские острова ----- Португалия
6. остров Тимор ----- Новая Зеландия

A) 4,5,6 B) 1,3,4 C) 2,4,5 D) 2,5,6 E) 3,5,6

15. Определите особенности, схожие для Берингово моря и Средиземного моря:

1. На берегу расположена только развитая страна
2. Базис эрозии для рек, протекающих с двух материков
3. Территория расположена в одном поясе освещенности
4. Территория расположена в трех полушариях
5. В основной части соленость меньше 33‰
6. Отделяется от океана архипелагом

A) 2,3,4 B) 3,5,6 C) 1,2,4 D) 3,4,5 E) 1,3,6

16. ВВП страны составляет 200 млрд. долларов, а ВНП – 140 млрд. долларов.

Объем продукции, произведенной зарубежом, составляет 48 млрд. долларов. Вычислите долю иностранных компаний в ВВП.

- A) 152 млрд. долларов
- B) 182 млрд. долларов
- C) 108 млрд. долларов
- D) 192 млрд. долларов
- E) 188 млрд. долларов

17. Выберите **неверный** ряд соответственно таблице.

№	Название реки	Бассейн, в котором расположено устье реки	Страна, в которой расположено устье
1	По	Адриатическое море	Италия
2	Юкон	Море Бофорта	Канада
3	Иравади	Сиамский залив	Мьянма
4	Или	Озеро Балхаш	Казахстан
5	Тигр	Аравийское море	Ирак
6	Рона	Средиземное море	Франция

- A) 1, 3, 5
- B) 2, 3, 5
- C) 3, 5, 6
- D) 2, 4, 6
- E) 2, 4, 5

18. Выберите острова, по территории которых протекают реки, относящиеся к бассейнам двух океанов:

- A) Суматра, Калимантан, Фолклендские, Минданао
- B) Ява, Огненная Земля, Исландия, Тасмания
- C) Фарерские, Новая Зеландия, Кергелен, Ньюфаундленд
- D) Сулавеси, Сейшельские, Врангеля, Галапагосские
- E) Бермудские, Сокотра, Лусон, Новая Гвинея

19. Выберите вулканы, расположенные на географической широте, где минимальный угол падения солнечных лучей больше 43° .

1. Монтань Пеле 2. Рейнир 3. Орисаба 4. Руапеху
5. Пинатубо 6. Этна 7. Фудзияма 8. Керинчи
- A) 1,4,5,8 B) 2,4,6,7 C) 1,2,5,8 D) 2,5,7,8 E) 1,3,5,8

20. В рамках прогноза развития какой международной организации подсчитывается Индекс человеческого развития (ИЧР).

- A) НАТО B) ЕС C) ОПЭК D) ООН E) ОЧЭС

21. Определите развитую страну с наименьшей площадью.

- A) Швеция
- B) Япония
- C) Германия
- D) Франция
- E) Италия

22. Определите особенности, которые **не являются** общими для стран, в которых расположены озера Веттерн и Болотон.

- 1. Внутриматериковая страна
- 2. Официальный государственный язык относится к индоевропейской языковой семье
- 3. Территория находится в континенте, расположенном в трех полушариях
- 4. По территории протекает река Дунай
- 5. Расположена в умеренном климатическом поясе
- 6. Не граничит с Российской Федерацией

- A) 1,2,6 B) 1,2,4 C) 2,4,5 D) 3,5,6 E) 1,3,4

23. Определите особенности, которые относятся к материке Австралия:

- 1. Западная часть – зона древней платформы, а восточная часть – зона древней складчатости.
- 2. Территория, на которой расположена самая низкая точка материка, соответствует умеренному поясу освещенности.
- 3. Горы Макдоннелл расположены севернее плато Баркли.
- 4. Больше половины территории материка расположена в зоне высокого давления.
- 5. Самая высокая температура наблюдается в верхнем течении реки Дарлинг.
- 6. Индийский океан имеет наименьшую долю в распределении внутренних вод по бассейнам.

- A) 1,3,5 B) 2,4,6 C) 1,2,4 D) 2,3,6 E) 1,2,6

24. Определите оросительные каналы, которые питаются водами реки Араз.

1. Главный Мильский
2. Верхне-Гарабагский
3. Главный Муганьский
4. Азизбековский
5. Самур-Абшеронский
6. Верхне-Ширванский

A) 2,4,6 B) 3,4,6 C) 1,2,3 D) 1,3,4 E) 1,2,5

25. Какими цифрами обозначены Башкортостан, Тыва, Кабардино-Балкария и Чувашия на картосхеме тюркских государственных образований:



A) 1,5,7,8 B) 5,6,8,4 C) 2,3,1,6 D) 6,3,7,9 E) 5,1,9,7